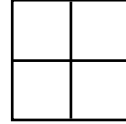




1. Lluniadwch ac enwch siâp 3D gyda mwy na 8 wyneb.

.....

2. Sawl ongl sgwâr sydd yn y llun hwn?



.....

3. Pa siapiau ydych chi'n eu cael os ydych chi'n torri trapesiwm yn ei hanner?

.....

4. Pa feintiau allai'r tair ongl mewn triongl fod?

.....

5. Sawl ciwb bach fyddech chi eu hangen i wneud ciwb sydd yn 16 ciwb o led?

.....

6. Lluniadwch nonagon afreolaidd.

.....

7. Beth ydy cyfanswm onglau mewnol pentagon rheolaidd?

.....

8. Oes gan rwyd prism heptagonol fwy o fertigau na rhwyd prism pentagonol?

.....

9. Sawl llinell cymesuredd sydd gan y llythrennau yn y gair 'CYMESUR' i gyd?

.....

10. Pa siapiau fyddech chi eu hangen i wneud model 3D o brism hecsagonol?




Datblygu ymresymu rhifyddol : Adnabod prosesau a chysylltiadau

Lluniadwch ac enwch siâp 3D gyda mwy na 9 wyneb.

1.

2. Sawl ongl sgwâr sydd yn y llun hwn?



.....

3. Pa siapiau ydych chi'n eu cael os ydych chi'n torri trapesiwm yn dair rhan?

.....

4. Pa feintiau allai'r pum ongl mewn pentagon fod?

.....

5. Sawl ciwb bach fyddech chi eu hangen i wneud ciwb sydd yn 20 ciwb o led?

.....

6. Lluniadwch decagon afreolaidd.

.....

7. Beth ydy cyfanswm onglau mewnol hecsagon rheolaidd?

.....

8. Oes gan rwyd prism hecsagonol fwy o fertigau na rhwyd prism heptagonol?

.....

9. Sawl llinell cymesuredd sydd gan y llythrennau yn y gair 'MAWREDDOG' i gyd?

.....

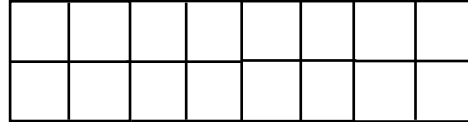
10. Pa siapiau fyddech chi eu hangen i wneud model 3D o brism heptagonol?



1. Lluniadwch ac enwch siâp 3D gyda mwy na 10 wyneb.

.....

2. Sawl ongl sgwâr sydd yn y llun hwn?



.....

3. Pa siapiau ydych chi'n eu cael os ydych chi'n torri trapesiwm yn bedair rhan?

.....

4. Pa feintiau allai'r wyth ongl mewn octagon fod?

.....

5. Sawl ciwb bach fyddech chi eu hangen i wneud ciwb sydd yn 25 ciwb o led?

.....

6. Lluniadwch dodecagon afreolaidd.

.....

7. Beth ydy cyfanswm onglau mewnol heptagon rheolaidd?

.....

8. Oes gan rwyd prism heptagonol fwy o fertigau na rhwyd prism octagonol?

.....

9. Sawl llinell cymesuredd sydd gan y llythrennau yn y gair 'CYMESUREDD' i gyd?

.....

10. Pa siapiau fyddech chi eu hangen i wneud model 3D o brism octagonol?